



中級角度問題一総合

①

名前

得点

1

台形です

答え 度

2

ひし形の紙を折り返しました

答え 度

3

五角形ABCDEは正五角形
三角形CDFは正三角形です

答え 度

4

答え 度

5

台形です

答え 度

6

Oは円の中心です

答え 度



中級角度問題一総合

②

名前

得点

<p>1</p>	<p>答え <input type="text"/> 度</p>	<p>2</p> <p>答え <input type="text"/> 度</p>
<p>3</p>	<p>答え <input type="text"/> 度</p>	<p>4</p> <p>答え <input type="text"/> 度</p>
<p>5</p>	<p>答え <input type="text"/> 度</p>	<p>6</p> <p>答え <input type="text"/> 度</p>



中級角度問題一総合

③

名前

得点

<p>1</p>	<p>答え <input type="text"/> 度</p>	<p>2</p> <p>1組の三角定規を組み合わせた図形です</p> <p>答え <input type="text"/> 度</p>
<p>3</p>	<p>正方形の紙を折り返しました</p> <p>答え <input type="text"/> 度</p>	<p>4</p> <p>答え <input type="text"/> 度</p>
<p>5</p>	<p>lとmは平行です</p> <p>答え <input type="text"/> 度</p>	<p>6</p> <p>答え <input type="text"/> 度</p>



中級角度問題一総合

④

名前

得点

1	<p>Oは円の中心です</p> <p>答え <input type="text"/> 度</p>	2
	<p>正方形の紙を折り返しました</p> <p>答え <input type="text"/> 度</p>	
3	<p>三角形AB'C'は三角形ABCをAを中心に回転した図形です</p> <p>答え <input type="text"/> 度</p>	4
	<p>答え <input type="text"/> 度</p>	
5	<p>lとmは平行です</p> <p>答え <input type="text"/> 度</p>	6
	<p>答え <input type="text"/> 度</p>	



中級角度問題一総合

⑤

名前

得点

<p>1</p>	<p>長方形の紙を折り返しました</p> <p>答え <input type="text"/> 度</p>	<p>2</p> <p>答え <input type="text"/> 度</p>
<p>3</p>	<p>ABは円の直径、 Oは円の中心です</p> <p>答え <input type="text"/> 度</p>	<p>4</p> <p>四角形ABCDは平行四辺形です。</p> <p>答え <input type="text"/> 度</p>
<p>5</p>	<p>正五角形と正三角形を 組み合わせた図形です。</p> <p>答え <input type="text"/> 度</p>	<p>6</p> <p>三角形AB'C'は三角形ABCを Aを中心に回転した図形です</p> <p>答え <input type="text"/> 度</p>

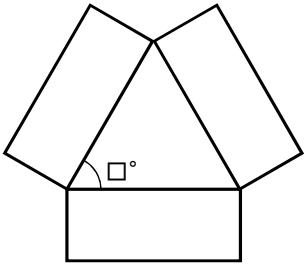
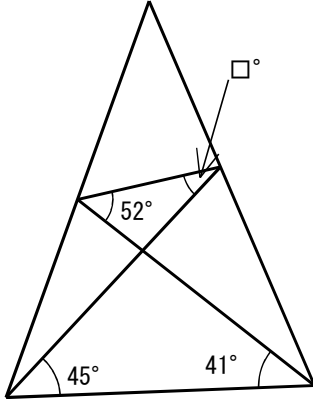
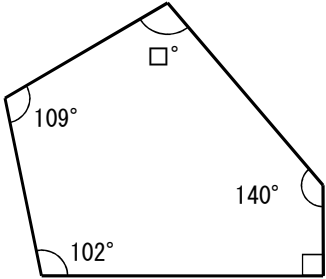
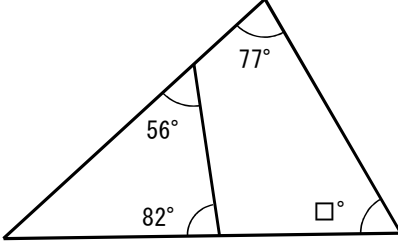
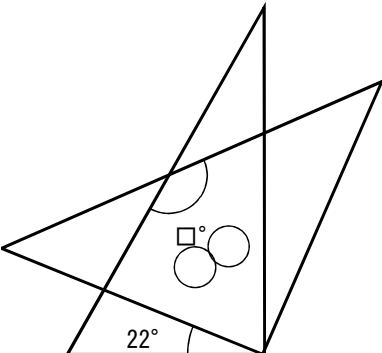
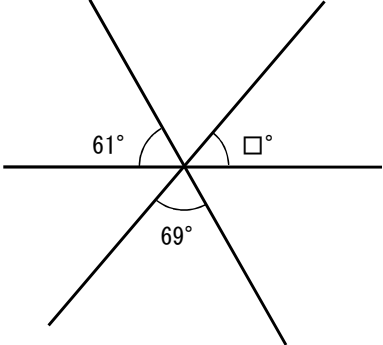


中級角度問題一総合

⑥

名前

得点

<p>1</p>	 <p>形も大きさも同じ長方形の紙を3枚組み合わせた図形です。</p> <p>答え <input type="text"/> 度</p>	<p>2</p>  <p>答え <input type="text"/> 度</p>
<p>3</p>	 <p>答え <input type="text"/> 度</p>	<p>4</p>  <p>答え <input type="text"/> 度</p>
<p>5</p>	 <p>1組の三角定規を組み合わせました</p> <p>答え <input type="text"/> 度</p>	<p>6</p>  <p>答え <input type="text"/> 度</p>



中級角度問題一総合

⑦

名前

得点

1	<p>正方形の紙を折り返しました</p> <p>答え <input type="text"/> 度</p>	2
	<p>Oは円の中心です</p> <p>答え <input type="text"/> 度</p>	
3	<p>正五角形と正八角形を 組み合わせてかいた図です</p> <p>答え <input type="text"/> 度</p>	4
	<p>答え <input type="text"/> 度</p>	
5	<p>1組の三角定規を組み合わせた図形です</p> <p>答え <input type="text"/> 度</p>	6
	<p>ABは円の直径、 Oは円の中心です</p> <p>答え <input type="text"/> 度</p>	