



<h1>上級角度問題プリント</h1>	<h2>A</h2>	名前
	<h3>①</h3>	得点

1	2	3
<p>問題</p>	<p>問題</p> <p>○と○、◇と◇は 同じ角度です。</p>	<p>問題</p> <p>AB=AC=BD, AD=DCです</p>
<p>計算</p>	<p>計算</p>	<p>計算</p>
<p>答え</p>	<p>答え</p>	<p>答え</p>



<h1>上級角度問題プリント</h1>	<h2>A</h2>	名前
	<h3>②</h3>	得点

1	2	3
<p>問題</p>	<p>問題</p> <p>三角形ABCと 三角形A'B'C'は 合同です</p>	<p>問題</p> <p>Oは円の中心です</p>
<p>計算</p>	<p>計算</p>	<p>計算</p>
<p>答え</p>	<p>答え</p>	<p>答え</p>



<h1>上級角度問題プリント</h1>	<h2>A</h2>	名前
	<span style="border: 1px solid black; border-radius: 50%; padding: 2px 5px;">3</span>	得点

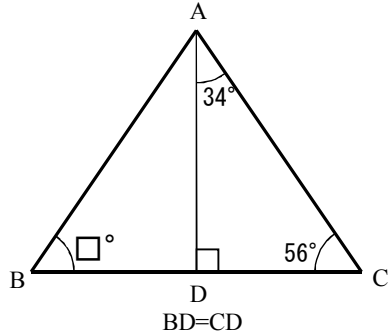
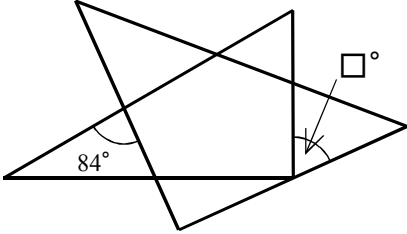
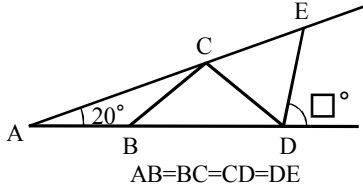
1	2	3
<p><b>問題</b></p>	<p>四角形ABCDは台形、lとmは平行です</p>	<p><b>問題</b></p>
<p><b>計算</b></p>	<p><b>計算</b></p>	<p><b>計算</b></p>
<p><b>答え</b></p>	<p><b>答え</b></p>	<p><b>答え</b></p>



<h1>上級角度問題プリント</h1>	<h2>A</h2>	名前
	<span style="border: 1px solid black; border-radius: 50%; padding: 2px 5px;">4</span>	得点

1	2	3
<p><b>問題</b></p> <p>台形A'B'C'Dは 台形ABCDを回転 してできた図形です</p>	<p><b>問題</b></p> <p>○と○、×と×は同じ角度です</p>	<p><b>問題</b></p> <p>合同な正方形を3枚重ねました</p>
<p><b>計算</b></p>	<p><b>計算</b></p>	<p><b>計算</b></p>
<p><b>答え</b></p>	<p><b>答え</b></p>	<p><b>答え</b></p>



上級角度問題プリント		A	名前
		⑤	得点
1	2	3	
<p>問題</p>  <p>BD=CD</p>	<p>問題</p>  <p>一組の三角定規を 組み合わせた図形です</p>	<p>問題</p>  <p>AB=BC=CD=DE</p>	
計算	計算	計算	
答え	答え	答え	



<h1>上級角度問題プリント</h1>	<h2>A</h2>	名前
	<h3>⑥</h3>	得点

1	2	3
<p><b>問題</b></p> <p>正五角形を折り返した図形です</p>	<p><b>問題</b></p> <p>四角形ABCDは平行四辺形で lとmは平行です</p>	<p><b>問題</b></p> <p>正方形AB'C'D'は 正方形ABCDを 回転した図形です</p>
<p><b>計算</b></p>	<p><b>計算</b></p>	<p><b>計算</b></p>
<p><b>答え</b></p>	<p><b>答え</b></p>	<p><b>答え</b></p>



<h1>上級角度問題プリント</h1>	<h2>A</h2>	名前
	<span style="border: 1px solid black; border-radius: 50%; padding: 2px 5px;">7</span>	得点

1	2	3
<p><b>問題</b></p>	<p><b>問題</b></p>	<p><b>問題</b></p>
<p><b>計算</b></p>	<p><b>計算</b></p>	<p><b>計算</b></p>
<p><b>答え</b></p>	<p><b>答え</b></p>	<p><b>答え</b></p>