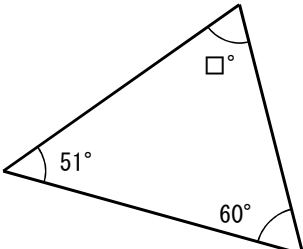
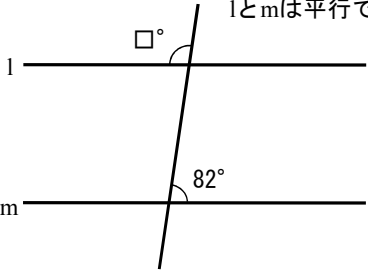
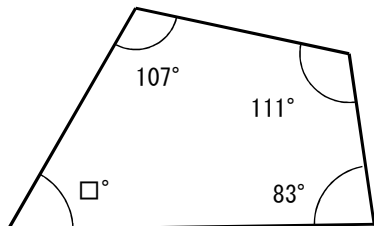
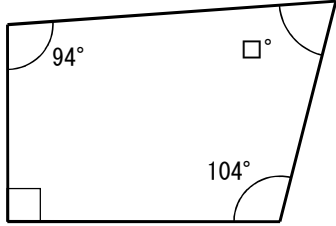
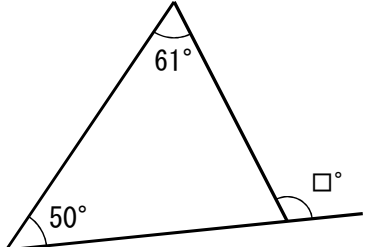
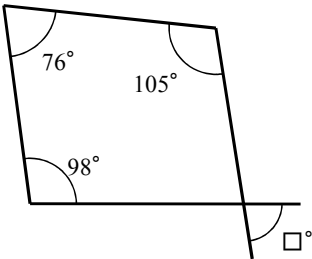




初級角度問題一総合 ①

名前

得点

<p>1</p>	 <p>答え <input type="text"/> 度</p>	<p>lとmは平行です</p>  <p>答え <input type="text"/> 度</p>	<p>2</p>
<p>3</p>	 <p>答え <input type="text"/> 度</p>	 <p>答え <input type="text"/> 度</p>	<p>4</p>
<p>5</p>	 <p>答え <input type="text"/> 度</p>	 <p>答え <input type="text"/> 度</p>	<p>6</p>



<p>1</p>	<p>答え <input type="text"/> 度</p>	<p>2</p> <p>答え <input type="text"/> 度</p>
<p>3</p>	<p>答え <input type="text"/> 度</p>	<p>4</p> <p>答え <input type="text"/> 度</p>
<p>5</p>	<p>答え <input type="text"/> 度</p>	<p>6</p> <p>答え <input type="text"/> 度</p>

初級角度問題一総合 ②

名前

得点



初級角度問題一総合 ③

名前

得点

<p>1</p>	<p>三角定規のひとつです</p> <p>答え <input type="text"/> 度</p>	<p>2</p> <p>答え <input type="text"/> 度</p>
<p>3</p>	<p>答え <input type="text"/> 度</p>	<p>4</p> <p>答え <input type="text"/> 度</p>
<p>5</p>	<p>lとmは平行です</p> <p>答え <input type="text"/> 度</p>	<p>lとmは平行です</p> <p>答え <input type="text"/> 度</p>



<p>1</p>	<p>答え <input type="text"/> 度</p>	<p>答え <input type="text"/> 度</p>	<p>2</p>
<p>3</p>	<p>答え <input type="text"/> 度</p>	<p>lとmは平行です</p> <p>答え <input type="text"/> 度</p>	<p>4</p>
<p>5</p>	<p>答え <input type="text"/> 度</p>	<p>lとmは平行です</p> <p>答え <input type="text"/> 度</p>	<p>6</p>

初級角度問題一総合 ④

名前

得点



初級角度問題一総合 ⑤

名前

得点

1

lとmは平行です

67°

l

m

□°

答え 度

2

lとmは平行です

96°

l

m

□°

答え 度

3

□°

44°

答え 度

4

47°

□°

答え 度

5

□°

75°

答え 度

6

□°

□°

答え 度



初級角度問題一総合 ⑥

名前

得点

1

答え 度

2

答え 度

3

答え 度

4

lとmは平行です

答え 度

5

答え 度

6

答え 度



初級角度問題一総合 ⑦

名前

得点

1

答え 度

2

A, B, C, D, E, Fは円を6等分する点です

答え 度

3

答え 度

4

lとmは平行です

答え 度

5

lとmは平行です

答え 度

6

答え 度