



角度問題確認プリント-A00	名前	得点
-----------------------	----	----

問	題	計	算	答え
1				
2				
3				

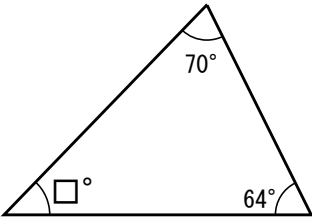
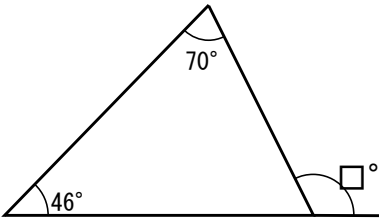
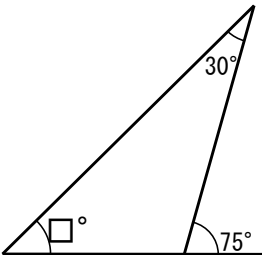


角度問題確認プリント-A01		名前	得点
	問 題	計 算	答 え
1			
2			
3			



角度問題確認プリント-A02		名前	得点
	問 題	計 算	答 え
1	<p>ℓ と m は平行です</p>		
2	<p>ℓ と m は平行です</p>		
3	<p>ℓ と m は平行です</p>		



角度問題確認プリント-A03-04		名前	得点
	問 題	計 算	答 え
1			
2			
3			

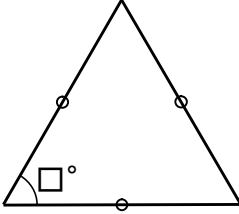
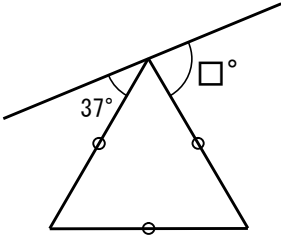
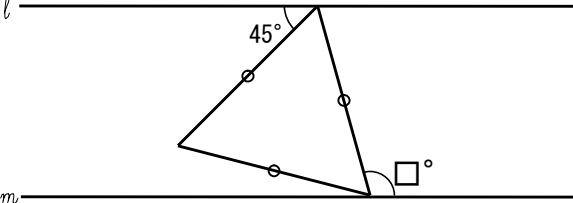


角度問題確認プリント-A05		名前	得点
問	題	計	算 答
1			
2			
3			



<p style="text-align: center;">角度問題確認プリント-A06</p>		<p style="text-align: center;">名前</p>	<p style="text-align: center;">得点</p>
	<p style="text-align: center;">問 題</p>	<p style="text-align: center;">計 算</p>	<p style="text-align: center;">答 え</p>
<p>1</p>			
<p>2</p>			
<p>3</p>			

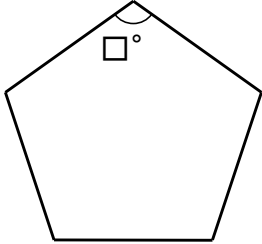
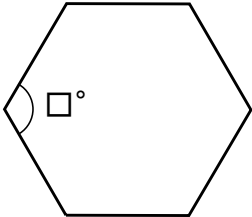
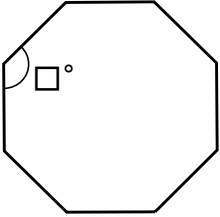


<p style="text-align: center;">角度問題確認プリント-A07</p>		<p style="text-align: center;">名前</p>	<p style="text-align: center;">得点</p>
	<p style="text-align: center;">問 題</p>	<p style="text-align: center;">計 算</p>	<p style="text-align: center;">答 え</p>
<p>1</p>			
<p>2</p>			
<p>3</p>	<p style="text-align: center;">ℓ と m は平行です</p> 		

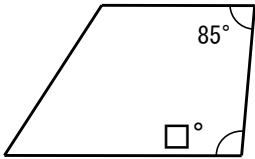
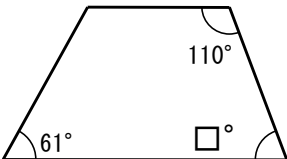
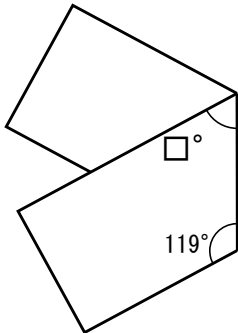


角度問題確認プリント-A15		名前	得点
問	題	計	算 答
1			
2			
3			

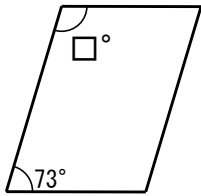
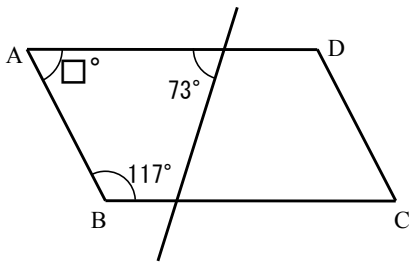
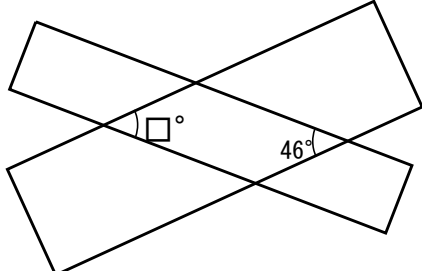


角度問題確認プリント-A16		名前	得点
	問 題	計 算	答 え
1	 <p>正五角形です</p>		
2	 <p>正六角形です</p>		
3	 <p>正八角形です</p>		



角度問題確認プリント-A10		名前	得点
	問 題	計 算	答 え
1	 <p>台形です</p>		
2	 <p>台形です</p>		
3	 <p>長方形の紙を折り曲げました</p>		



角度問題確認プリント-A11		名前	得点
	問 題	計 算	答 え
1	 <p>平行四辺形です</p>		
2	 <p>四角形ABCDは平行四辺形です</p>		
3	 <p>2つの長方形を重ねました</p>		



角度問題確認プリント-A52

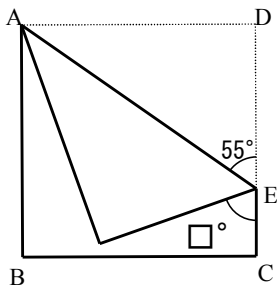
名前

得点

問 題

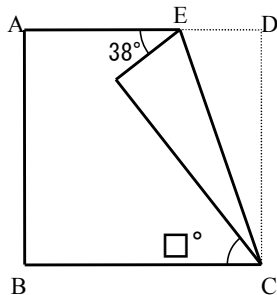
計 算 答 え

1



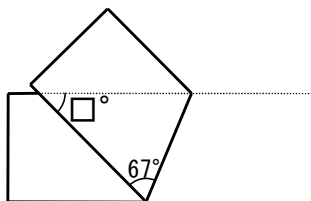
正方形ABCDをAEを
折り目にして折り返しました。

2



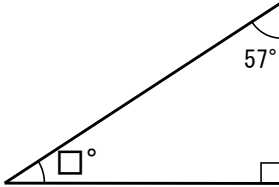
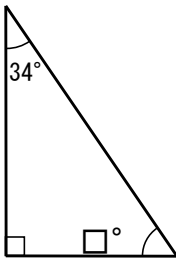
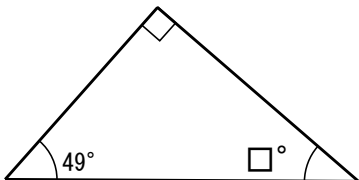
正方形ABCDをECを
折り目にして折り返しました。

3

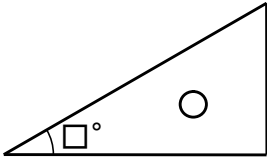
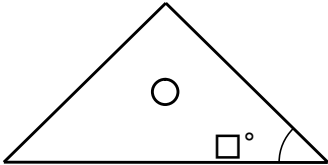
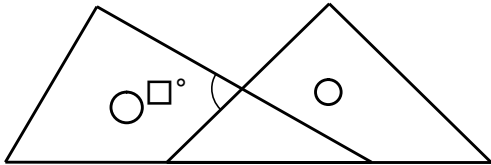


長方形を折り返した図形です。

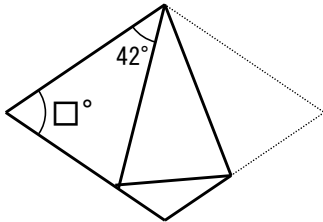
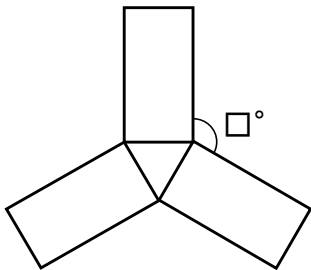
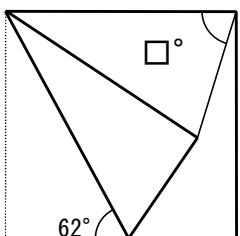


角度問題確認プリント-A08		名前	得点
	問 題	計 算	答 え
1			
2			
3			



角度問題確認プリント-A09		名前	得点
	問 題	計 算	答 え
1	 <p>三角定規のひとつです</p>		
2	 <p>三角定規のひとつです</p>		
3	 <p>ひと組の三角定規を組み合わせました</p>		

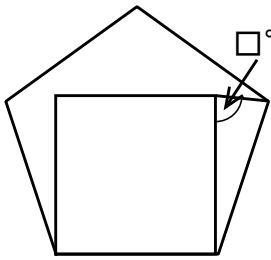
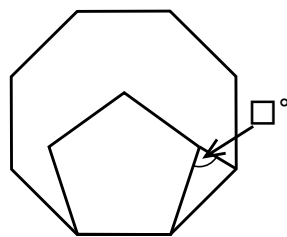
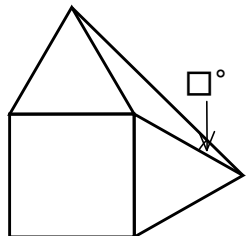


角度問題確認プリント-A12-14		名前	得点
	問 題	計 算	答 え
1	 <p>ひし形の紙を折り返しました</p>		
2	 <p>形も大きさも同じ長方形の紙を 3枚使って作った図形です</p>		
3	 <p>正方形の紙を折り返しました</p>		

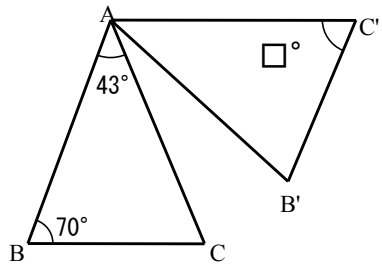
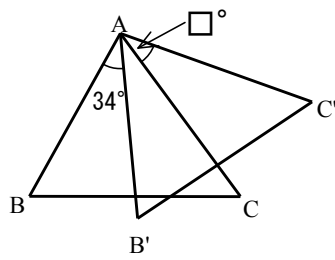
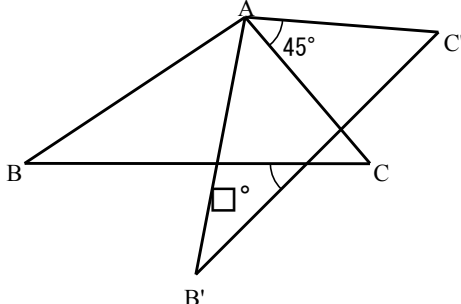


<p style="text-align: center;">角度問題確認プリント-A53</p>		<p style="text-align: center;">名前</p>	<p style="text-align: center;">得点</p>
	<p style="text-align: center;">問 題</p>	<p style="text-align: center;">計 算</p>	<p style="text-align: center;">答 え</p>
<p>1</p>			
<p>2</p>			
<p>3</p>			



角度問題確認プリント-A54		名前	得点
	問 題	計 算	答 え
1	 <p>正五角形と正方形を重ねてかいた図です</p>		
2	 <p>正八角形と正五角形を重ねてかいた図です</p>		
3	 <p>正方形と2つの正三角形を重ねてかいた図です</p>		



<p style="text-align: center;">角度問題確認プリント-A55</p>		<p style="text-align: center;">名前</p>	<p style="text-align: center;">得点</p>
	<p style="text-align: center;">問 題</p>	<p style="text-align: center;">計 算</p>	<p style="text-align: center;">答 え</p>
<p>1</p>	<div style="text-align: center;">  <p>三角形AB'C'は三角形ABCをAを中心に回転した図形です。</p> </div>		
<p>2</p>	<div style="text-align: center;">  <p>三角形AB'C'は三角形ABCをAを中心に回転した図形です。</p> </div>		
<p>3</p>	<div style="text-align: center;">  <p>三角形AB'C'は三角形ABCをAを中心に回転した図形です。</p> </div>		



角度問題確認プリント-A56		名前	得点
問	題	計	算 答
1	<p>○と○、◇と◇は 同じ角度です。</p>		
2	<p>○と○、◇と◇は 同じ角度です。</p>		
3	<p>○=○=33 (度) , ◇=◇=24 (度) △=△</p>		